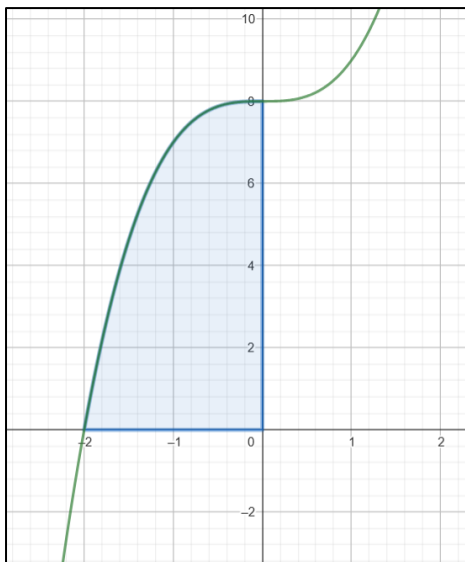


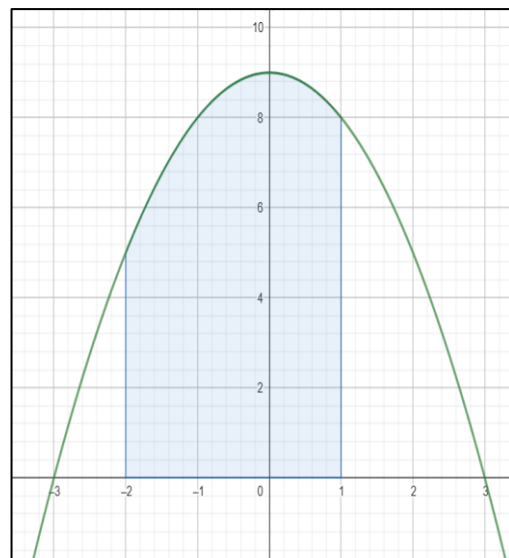
Übungen zu einfachen Flächenberechnungen

Gesucht ist die Fläche A der markierten Fläche.

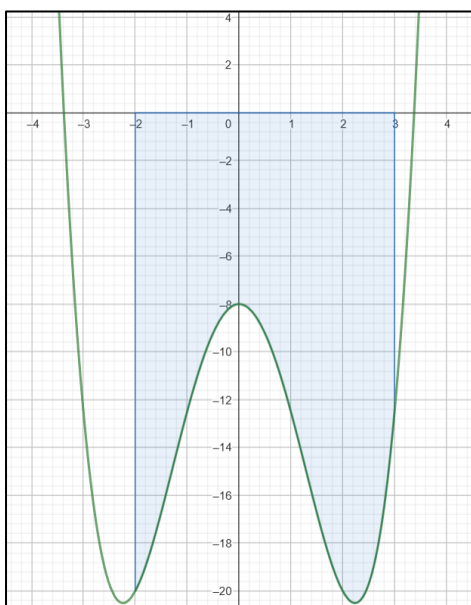
1. $f(x) = x^3 + 8$



3. $f(x) = -x^2 + 9$



2. $f(x) = 0,5x^4 - 5x^2 - 8$



4. $f(x) = 0,2x^3 - x^2 - 2,4x + 7,2$

